



# La lumière

## Evaluation



NOM



DATE

RÉPONDS AUX QUESTIONS SUIVANTES, EN T'APPUYANT SUR LES LEÇONS QUE TU AS APPRIS.

QUESTION 1 : COMPLÈTE LE TABLEAU EN PLAÇANT CES OBJETS DANS LA BONNE COLONNE : UN LIVRE, VITRE, UNE TABLE, UN VERRE D'EAU, DU PAPIER CALQUE, UN RIDEAU FIN

TRANSPARENT	TRANSLUCIDE	OPAQUE

QUESTION 2 : COMMENT APPELLE-T-ON UNE OMBRE QUI SE TROUVE DIRECTEMENT SUR LA PARTIE NON ÉCLAIRÉE D'UN OBJET OPAQUE?

RÉPONSE :

L'OMBRE PROPRE

LA PÉNOMBRE

L'OMBRE PORTÉE

LE REFLET

QUESTION 3 : COCHE LA BONNE RÉPONSE :

RÉPONSE : LA LUNE EST ÉCLAIRÉE PAR LE SOLEIL

VRAI

FAUX

LA TERRE EST ÉCLAIRÉE PAR LE SOLEIL



VRAI

FAUX



QUESTION 4 :

VOICI L'OMBRE D'UN CHAT SUR UN ÉCRAN À DEUX MOMENTS DIFFÉRENTS  
ENTRE LE MOMENT 1 ET LE MOMENT 2, COMMENT S'EST DÉPLACÉ LE CHAT ?



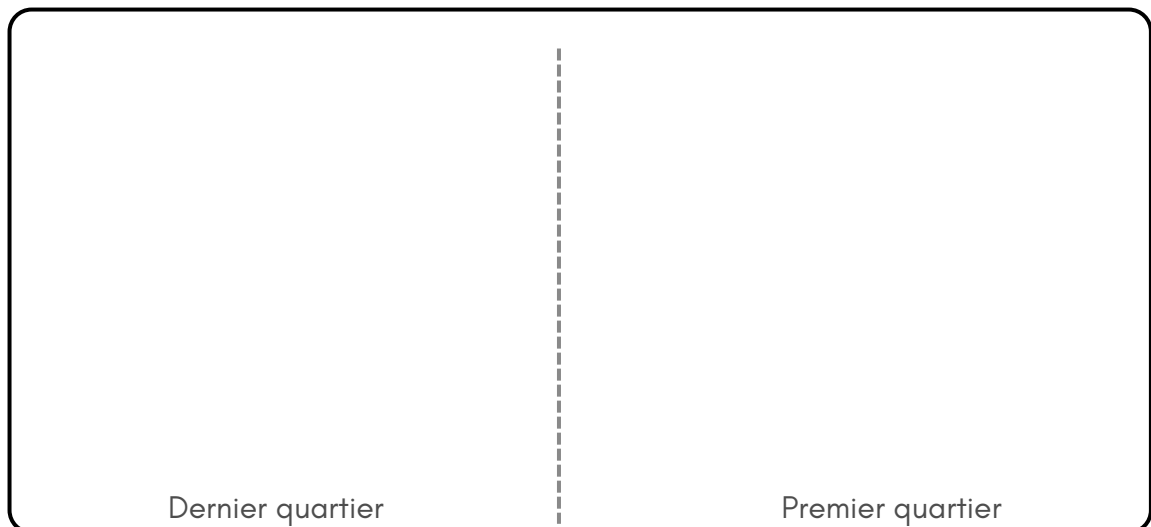
RÉPONSE : .....

QUESTION 5 : POURQUOI LA LUNE CHANGE D'ASPECT AU COURS DU MOIS?

RÉPONSE : .....

.....

QUESTION 6 : DESSINE LA LUNE EN PHASE DE DERNIER QUARTIER, PUIS DE PREMIER QUARTIER



Dernier quartier

Premier quartier

